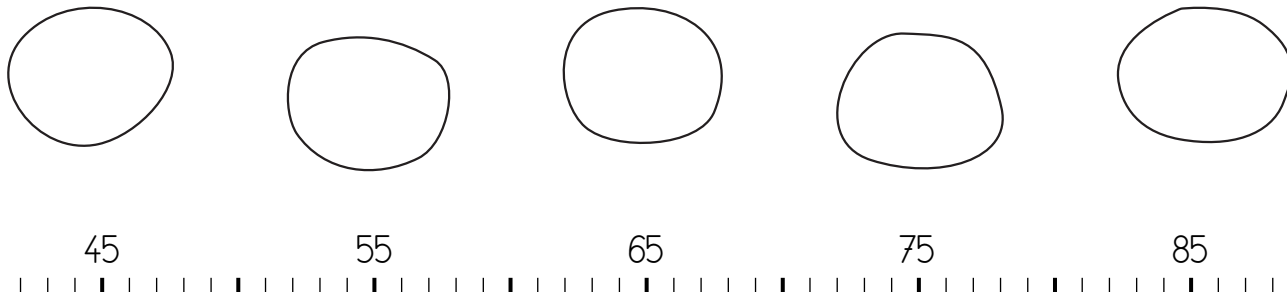


	ACTIVITÉS	INDIVIDUEL
Différenciation	Placer des nombres sur une ligne graduée	Exercices 2 3 4

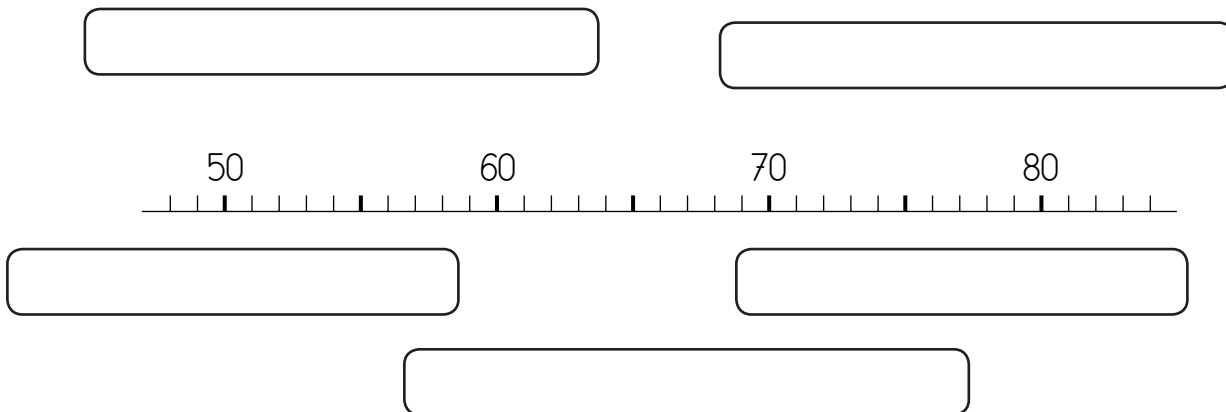
Datum:

Auf dem Zahlentrahl

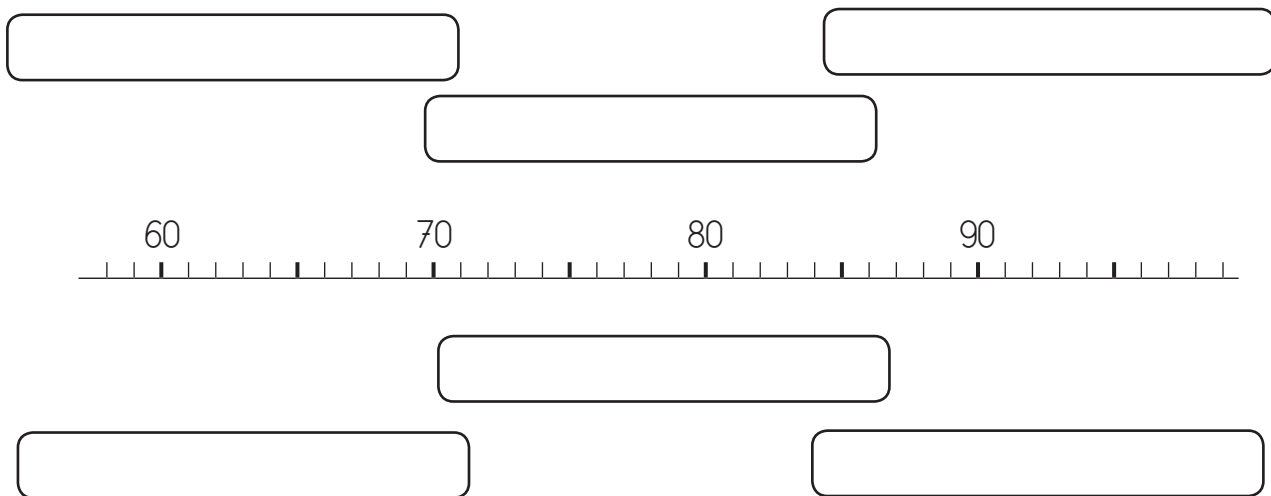
2 Verbinde jede Zahl mit der richtigen Stelle auf dem Zahlenstrahl.



3 Verbinde jede Zahl mit der richtigen Stelle auf dem Zahlenstrahl.



4 Verbinde jede Zahl mit der richtigen Stelle auf dem Zahlenstrahl.




	ACTIVITÉS	INDIVIDUEL
Différenciation	Valeur positionnelle des chiffres	Exercices 2 3 4

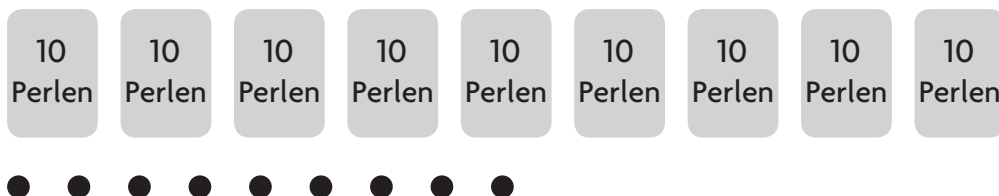

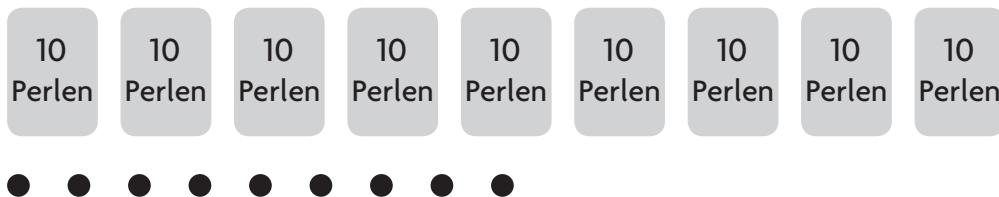

Datum:

Sachaufgaben

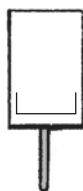
- 2 Alex möchte genauso viele Perlen wie Mieze haben.
 Kreise die Karten und die einzelnen blauen Perlen ein, die er dafür braucht.



- 3 Kreise jedes Mal die Karten und die Perlen ein, die man für die Zielzahl braucht.



- 4 Ergänze.



..... Karten mit 10 Perlen
 einzelne Perlen



..... Karten mit 10 Perlen
 einzelne Perlen

	ACTIVITÉS
Différenciation	Complément

INDIVIDUEL
Exercice 2

Datum:

Textaufgabe

2 Wie viele Briefmarken sieht man nicht?



..... Briefmarken sieht man nicht.



	ACTIVITÉS
Différenciation	Problème, valeur positionnelle des chiffres

INDIVIDUEL
Exercice 3

Datum:

Rechenaufgaben

3 Berechne jedes Mal, wie viel Geld Mieke hat.

[] 10-Euro-Scheine mehr



[] 10-Euro-Scheine weniger



[] 1-Euro-Münzen mehr



[] 1-Euro-Münzen weniger

