

Datum: .....

## Zahlen zerlegen

- 4** Alex hat 10 Karten ausgewählt.  
Wie viele Punkte hat er erreicht?

.....

.....

0      1      10      100

    |      |      |      |

Karte    Kart         Karten



- 5** Lisa möchte mit 10 Karten  Punkte erreichen.  
Wie viele Karten von jeder Sorte braucht sie?

.....

0      1      10      100

.....      .....      .....      .....

	ACTIVITÉS	INDIVIDUEL
Différenciation	Problème de partage	Exercices 4 5

Datum: .....

**Textaufgaben**

**4** Zu ihrer Geburtstagsfeier möchte Lisa  Pralinen kaufen.  
 Es sind immer  Pralinen in einer Schachtel.  
 Wie viele Schachteln muss sie kaufen?

.....

**5**  Kinder kommen zu ihrem Geburtstag.  
 Die Pralinen werden gleichmäßig unter ihnen aufgeteilt.  
 Wie viele Pralinen bekommt jedes Kind?

.....

	ACTIVITÉS	INDIVIDUEL
Différenciation	Encadrement de nombres	Exercice 3

Datum: .....

**Zahlen eingrenzen**

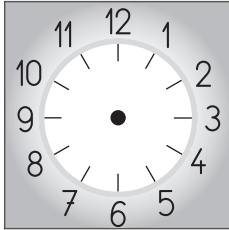
**3** Schreibe jede Zahl auf das richtige Säckchen.

	ACTIVITÉS	INDIVIDUEL
Différenciation	Lecture de l'heure	Exercices 2 3
Différenciation	Résolution de problèmes	Exercices 4 5

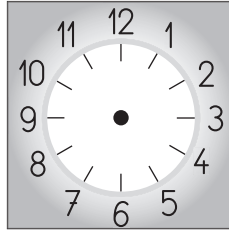
Datum: .....

**Die Uhrzeit lesen**


**2** Wie viel Uhr ist es? Ergänze.



Es ist.....  
.....

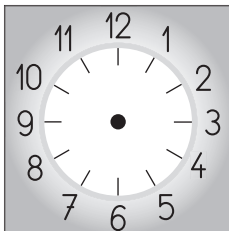


Es ist.....  
.....

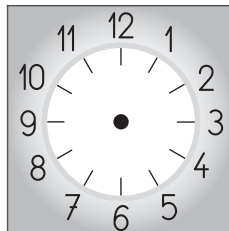


Es ist.....  
.....


**3** Wie viel Uhr ist es? Ergänze.



Es ist \_\_\_\_\_  
\_\_\_\_\_



Es ist \_\_\_\_\_  
\_\_\_\_\_



Es ist \_\_\_\_\_  
\_\_\_\_\_

**Textaufgaben**

**4** - Herr Dompteur, wie viele Tiger sind in ihrem Zirkus?  
- Du musst es selbst herausfinden.  
Es sind \_\_\_\_\_ Tigerpfoten.

**5** - Herr Dompteur, wie viele Elefanten sind in ihrem Zirkus?  
- Du musst es selbst herausfinden.  
Es sind \_\_\_\_\_ Elefantenoehren.