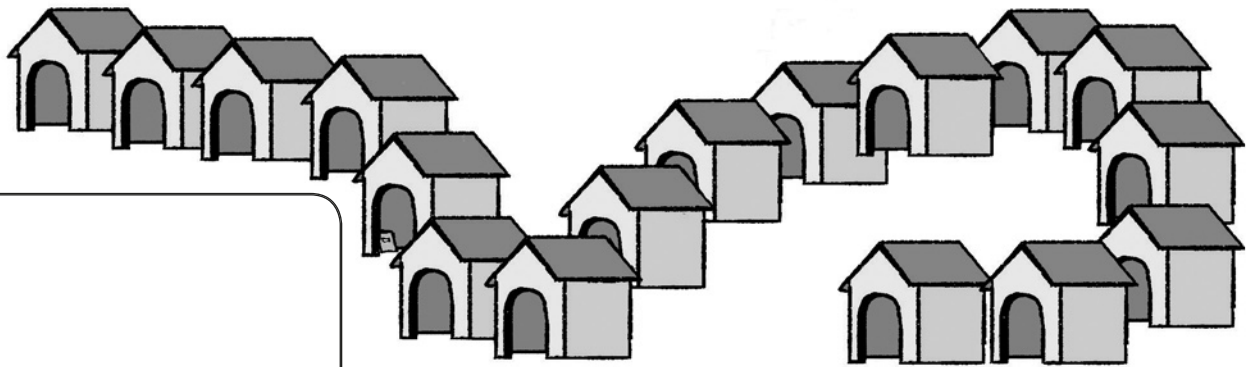


	ACTIVITÉS	INDIVIDUEL
Différenciation	Les nombres pour indiquer une position	Exercices 3 4

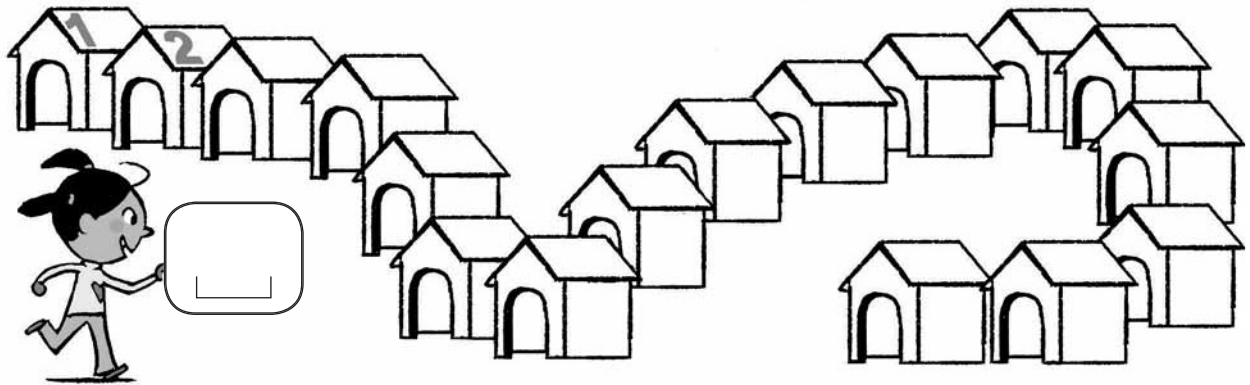
Datum:

Zahlen für Positionsangaben

- 3 **Beschreibe**, auf welcher Hundehütte Schnuffi sich befindet.



- 4 **Male** die Hundehütte **an**, in der Schnuffi sich versteckt.



	ACTIVITÉS	INDIVIDUEL
Différenciation	Comparer des nombres	Exercices 3 4

Datum:

Zahlen vergleichen

3 Kreise in jeder Seifenblase die größte Zahl **ein**.
Mache ein Kreuz unter die kleinste Zahl.

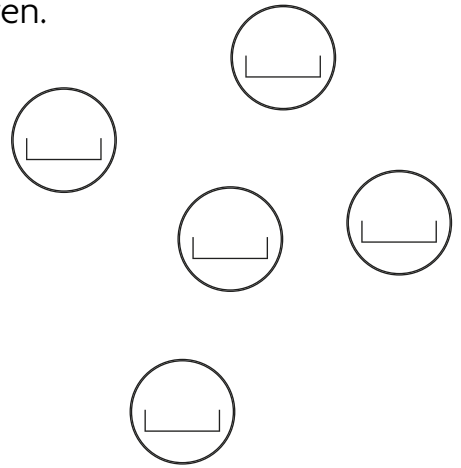


4 Schreibe diese Zahlen von der kleinsten zur größten.



Die kleinste hierhin.

.....



	ACTIVITÉS	INDIVIDUEL
Différenciation	Sommes et différences	Exercice 2
Différenciation	Ajout et retrait de petits nombres	Exercices 3 4

Datum:

Summen und Differenzen

2 **Verbinde** jede Rechnung mit ihrem Ergebnis.

Activity 2: Connect each calculation with its result. The page contains 12 calculation boxes (some with plus signs, some with minus signs) and 6 circles (some shaded, some empty). The calculations are: $\square + \square$, $\square - \square$, $\square + \square$, $\square - \square$, $\square + \square$, $\square - \square$, $\square - \square$, $\square - \square$, $\square - \square$, $\square - \square$, $\square + \square$, $\square + \square$. There are 3 shaded circles and 3 empty circles.

Addieren und Subtrahieren kleiner Zahlen

3 Auf welches Feld komme ich?

Activity 3: A grid of 12 circles and 12 boxes. Each box contains a number and an arrow pointing right, left, or down. The circles contain a number or a dashed line. The boxes are arranged in a 4x3 grid. The circles are arranged in a 4x3 grid.

4 Was muss auf dem Kärtchen stehen?

Activity 4: A grid of 12 circles and 12 boxes. Each box contains a number and a dashed line with an arrow pointing right, left, or down. The circles contain a number or a dashed line. The boxes are arranged in a 4x3 grid. The circles are arranged in a 4x3 grid.